



## VZNIK ZEMĚDĚLSTVÍ, VELKÝCH ŘÍŠÍ A VĚDY

Prostřednictvím popisu vzniku zemědělství, prvních velkých říší a šíření matematiky tyto mapy zobrazující období před 12 000 až 500 lety podporují povědomí o vztazích mezi ekonomickými, politickými a kulturními aspekty a pomáhají rozvíjet porozumění vzájemným vztahům.

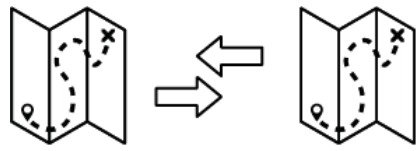


**Tato mapa zobrazuje oblasti světa, v nichž došlo ke zrodu zemědělství mezi 10 000 a 3 000 lety př. n. l. Vezměte v úvahu skutečnost, že ani jedna z těchto oblastí nevěděla, že ke stejnému zrodu dochází i na jiných územích.**



**1 – Úrodný půlměsíc    2 – Žlutá řeka a řeka Yangtze    3 – Střední Amerika    4 – Centrální Andy a Amazonie**

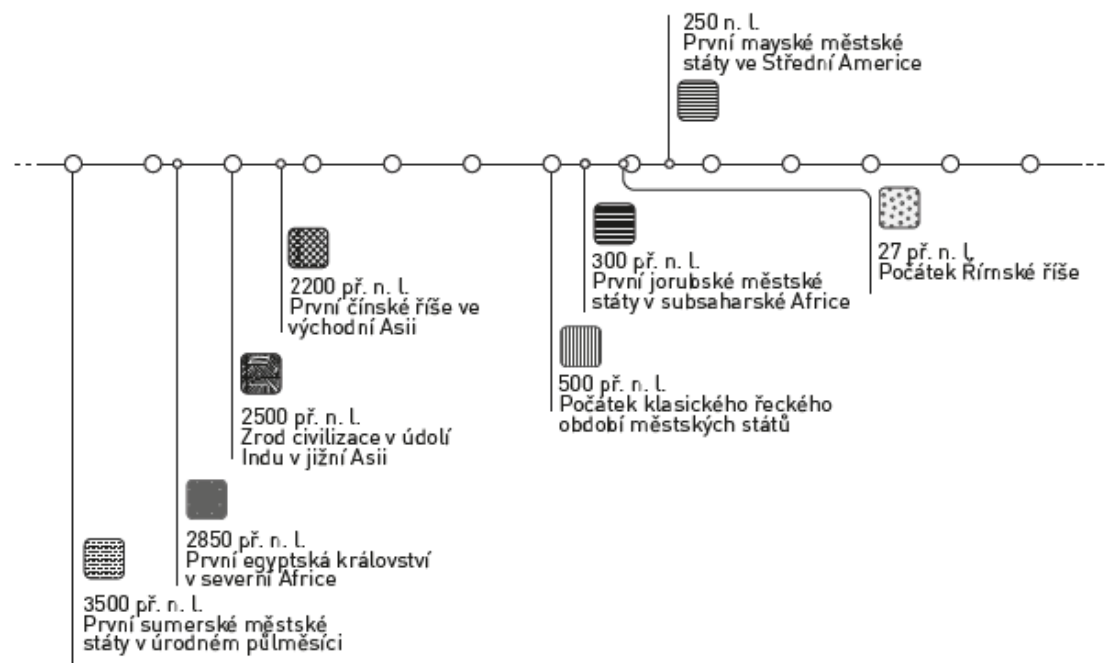
**5 – severovýchodní Amerika    6 – subsaharská Afrika**

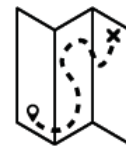
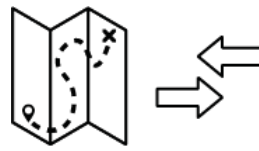


**POROVNEJTE MAPU  
ZOBRAZUJÍCÍ ZROD  
ZEMĚDĚLSTVÍ S MAPOU  
PRVNÍCH ŘÍŠÍ.**

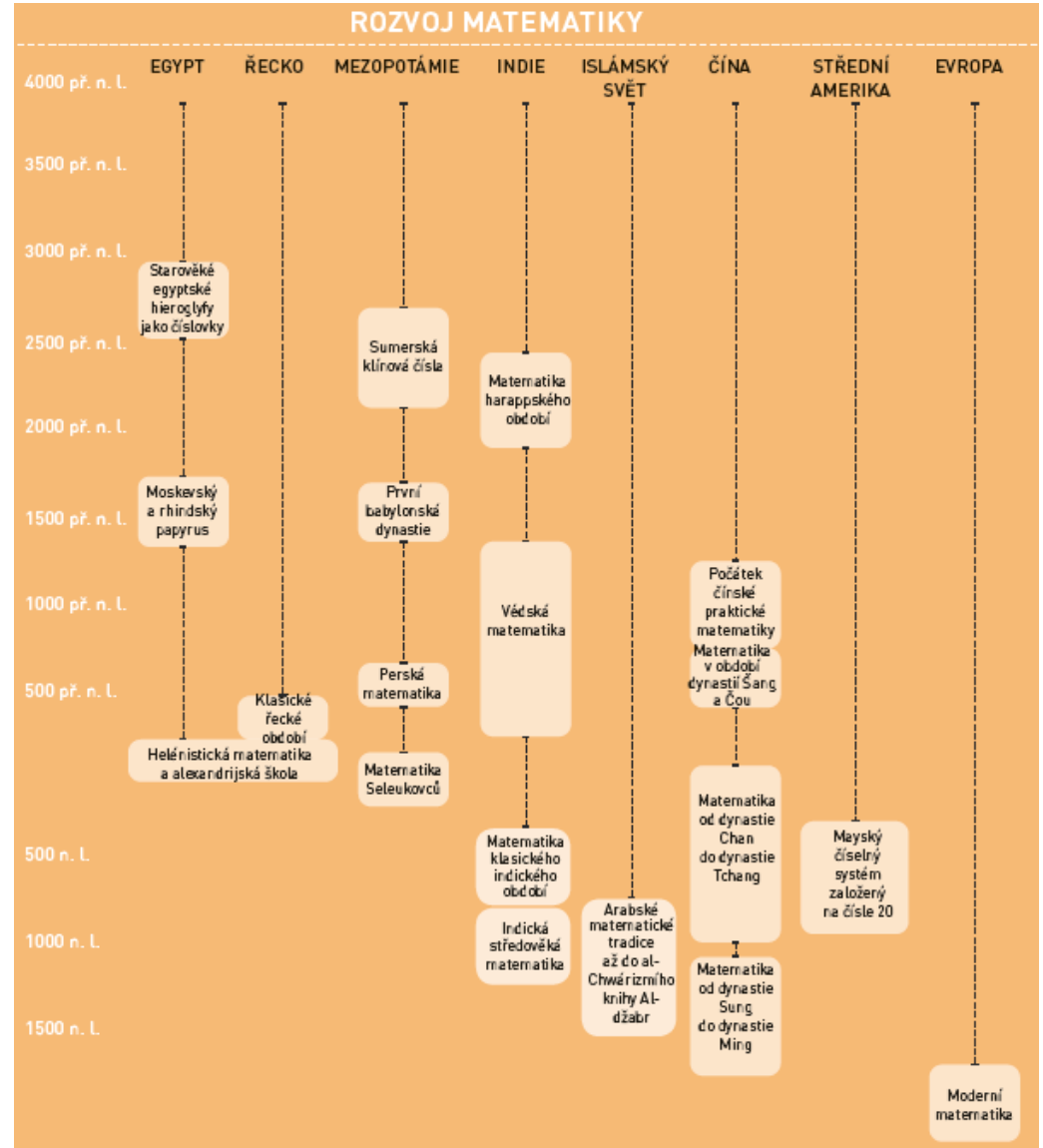
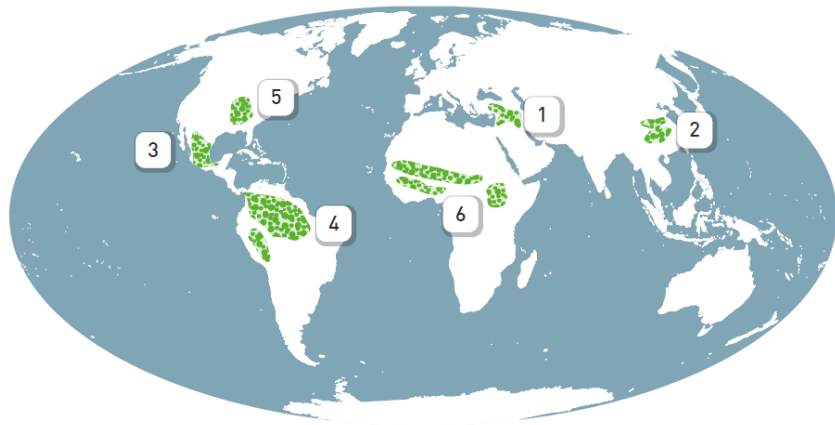


- |                     |                     |                       |              |       |             |
|---------------------|---------------------|-----------------------|--------------|-------|-------------|
| Mezopotámie         | Egyptské království | Údolí Indu civilizace | Severní Čína | Řecko | Římská říše |
| Údolí Mexika Aztéci | Májové              | Incká říše            | Jerubové     |       |             |





...A NYNÍ POROVNEJTE MAPU ZOBRAZUJÍCÍ VZNIK ZEMĚDĚLSTVÍ SE SCHÉMATEM UKAZUJÍCÍ ZDROD MATEMATIKY.



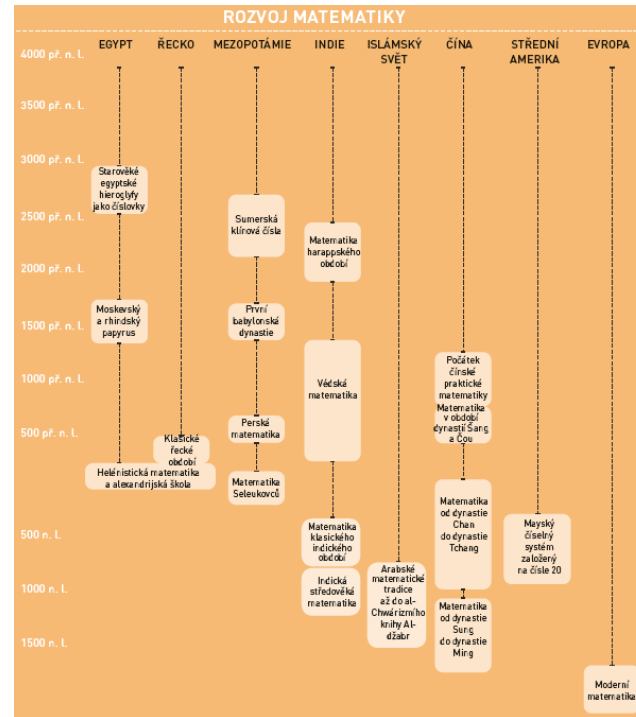
# ODPOVĚZTE NA NÁSLEDUJÍCÍ OTÁZKY:



**CO MAJÍ TYTO DVĚ MAPY A SCHÉMA SPOLEČNÉHO?  
ODŮVODNĚTE.**



**KTERÁ Z MAP A SCHÉMATU NEJVÍCE SOUVISÍ S  
HOSPODÁŘSTVÍM, KTERÁ S POLITIKOU, A KTERÁ S KULTUROU?**



- Mezopotámie
- Egyptské království
- Údolí Indu civilizace
- Severní Čína
- Řecko
- Římská říše
- Údolí Mexika Aztéci
- Májové
- Incká říše
- Jorubové