

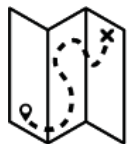


MIGRACE



Tato aktivita analyzuje první velké vlny pohybu lidstva v globálním měřítku (zhruba před 130 000 až 7 000 lety), a následně podporuje prozkoumání migrace v rodině. Prostřednictvím přechodu mezi těmito dvěma úrovněmi (tzv. proces transkalarity) aktivita podporuje povědomí o migraci jako o strukturálním – a ne výjimečném – jevu lidské historie.





PODÍVEJTE SE NA MAPU ZOBRAZUJÍCÍ PRVNÍ MIGRACI LIDSTVA. VYDEJTE SE ZE SVÉHO SOUČASNÉHO MÍSTA BYDLIŠTĚ A ZÁROVEŇ V ČASE ZPĚT PO ŠIPKÁCH.

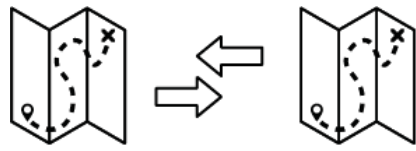
ODPOVĚZTE NA NÁSLEDUJÍCÍ OTÁZKY.



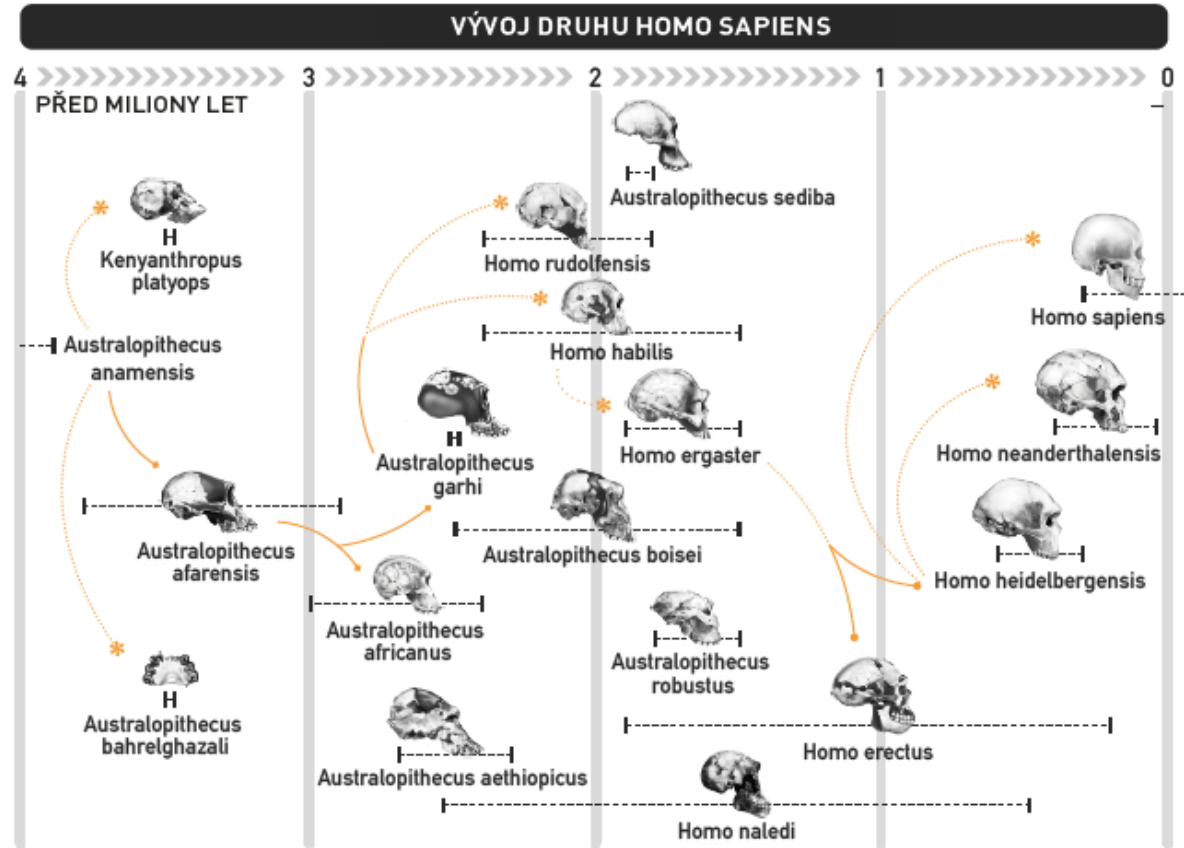
ODKUD POCHÁZÍ NEJDÁVNĚJŠÍ PŘEDCI VAŠÍ RODINY?



ODKUD POCHÁZÍ NEJDÁVNĚJŠÍ PŘEDCI LIDÍ?



POROVNEJTE MAPU ZOBRAZUJÍCÍ PRVNÍ MIGRACI LIDSTVA A SCHÉMA PROCESU LIDSKÉHO VÝVOJE NAZÝVAJÍCÍ SE „CESTA HOMO SAPIENS“. POTOM ODPOVĚZTE NA NÁSLEDUJÍCÍ OTÁZKY.



KTERÁ ČÁST GRAFU SOUVISÍ S MAPOU?



KTERÉ TYPY HOMO SAPIENS SE ZÚČASTNILI MIGRACE PŘED 130 000 LETY?



MŮŽE VÉST MIGRACE K ROZVOJI SCHOPNOSTÍ ČLOVĚKA? NAJDETE TAKOVÝ PŘEDPOKLAD A ODŮVODNĚTE JEJ.

PROVEĎTE VÝZKUM VE SVÉ RODINĚ. ZAMYSLETE SE NAD NÁSLEDUJÍCÍMI OTÁZKAMI:



KOLIK ČLENŮ VAŠÍ RODINY POCHÁZÍ Z JINÉHO MÍSTA, NEŽ VE KTERÉM NYNÍ ŽIJE?



KOLIK Z NICH STRÁVILO AŽ UŽ KRATŠÍ NEBO DELŠÍ ČASOVÉ OBDOBÍ V JINÉ ČÁSTI SVĚTA?



NA ZÁVĚR, VYSVĚTLETE VLASTNÍMI SLOVY MIGRACI.

