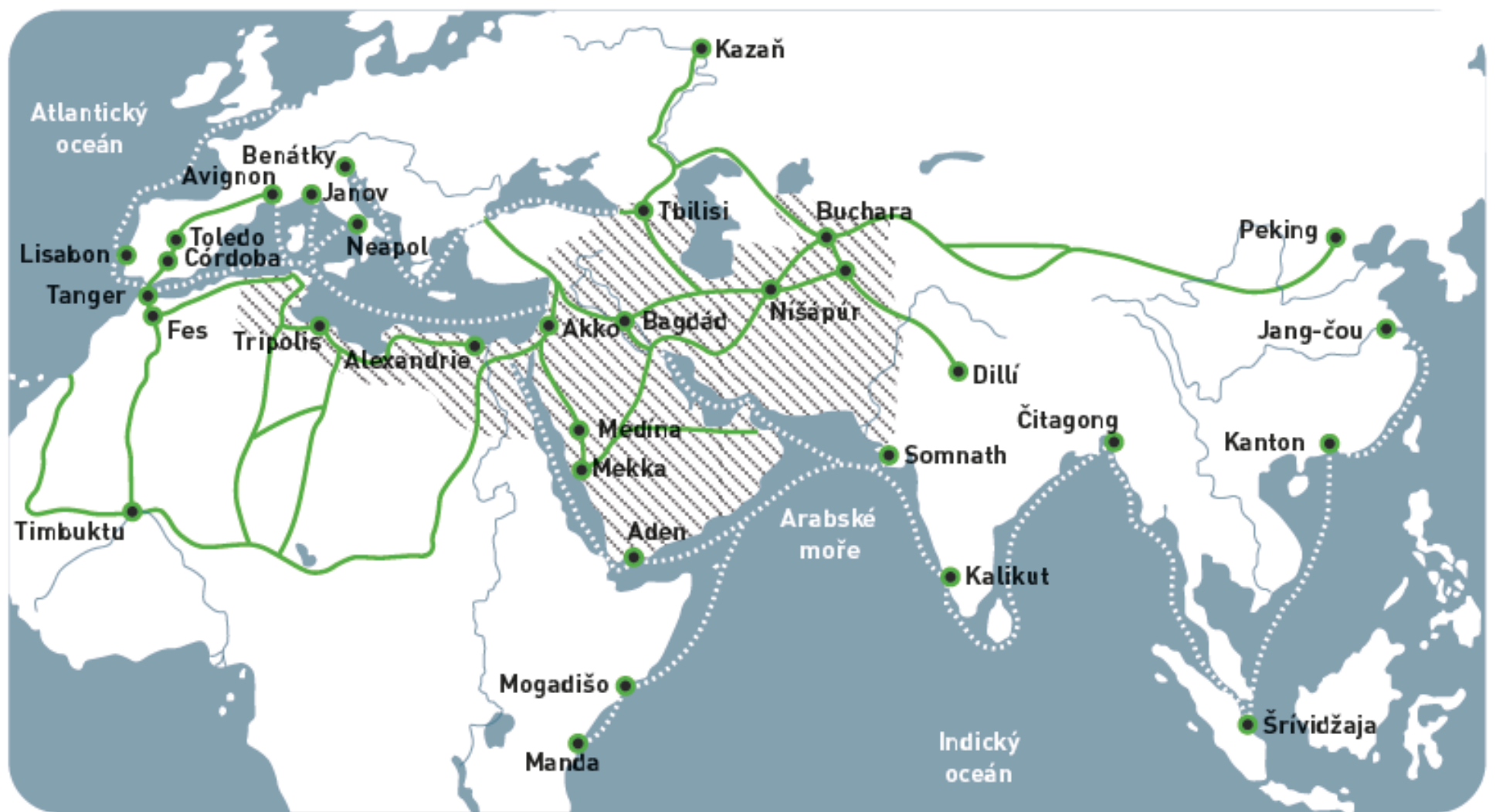




OBCHODNÍ SYSTÉM MEZI EVROPOU, AFRIKOU A ASIÍ

Cílem této aktivity je prozkoumat dálkové obchodní cesty před obdobím kolonizace Ameriky tak, aby žáci pochopili, že ekonomické systémy se v dějinách vyvíjely postupně. Žáci berou v úvahu různé úhly pohledu na svět.





Abbásovská dynastie (islám)



Pozemní trasy

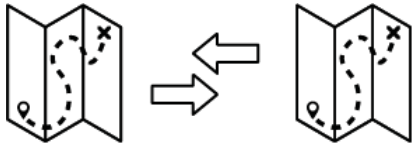


Námořní trasy

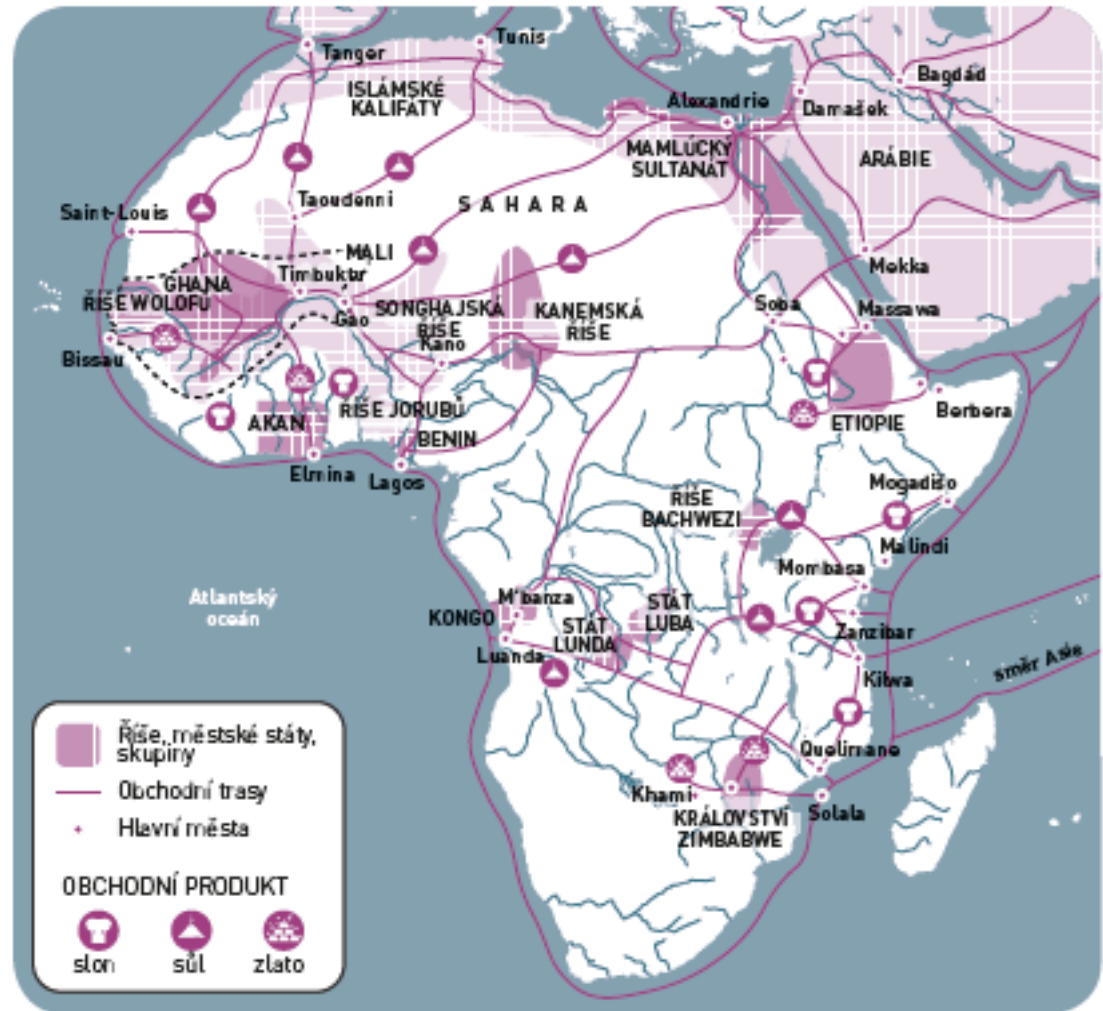
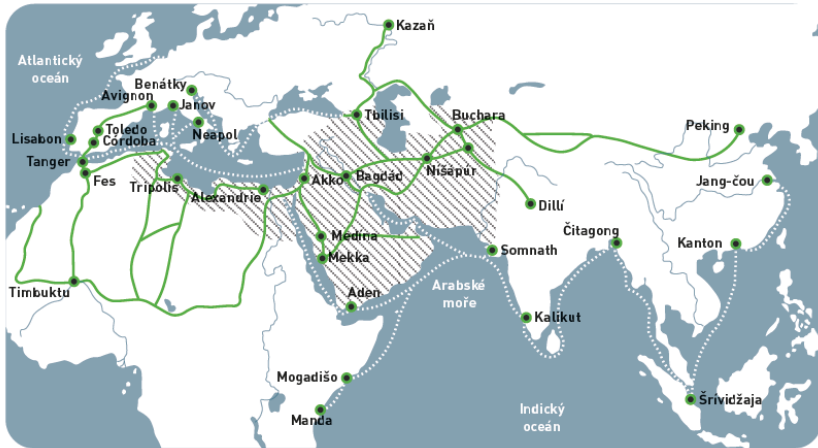


Hlavní města

Tato mapa ukazuje, jak zásadní byla role islámské civilizace při propojování Evropy, severní Afriky, subsaharské Afriky a různých částí Asie prostřednictvím směnného obchodu, který probíhal jak na zemi, tak na moři.



PODÍVEJTE SE ZNOVU NA MAPU (VLEVO) A POROVNEJTE JÍ S MAPOU (VPRAVO) ZOBRAZUJÍCÍ SÍŤ AFRICKÝCH OBCHODŮ A KRÁLOVSTVÍ MEZI 16. A 17. STOLETÍM.



ODPOVĚZTE NA TYTO OTÁZKY:

- ➡ KTERÉ OBLASTI SVĚTA BYLY V OBDOBÍ PŘED DOBÝVÁNÍM AMERIKY NEJVÍCE ZAPOJENY DO OBCHODU?
- ➡ HRÁLA TEHDY EVROPA CENTRÁLNÍ ROLI NEBO NE?
- ➡ KTERÉ EVROPSKÉ OBLASTI BYLY NEJVÍCE ZAPOJENY DO OBCHODU?

NAJDĚTE NA INTERNETU ODPOVĚDI NA NÁSLEDUJÍCÍ OTÁZKY:



CO UMOŽNILO ARABSKÝM A PERSKÝM NÁMOŘNÍKŮM, ABY SE MOHLI ORIENTOVAL PŘI PLAVBĚ V INDICKÉM OCEÁNU A ROZVÍJET TAK OBCHOD PO MOŘI?



JAKÉ ZVLÁŠTNÍ CHARAKTERISTIKY MĚLO MĚSTO TIMBUKTU V SOUČASNÉM AFRICKÉM STAVU ZLA?
