

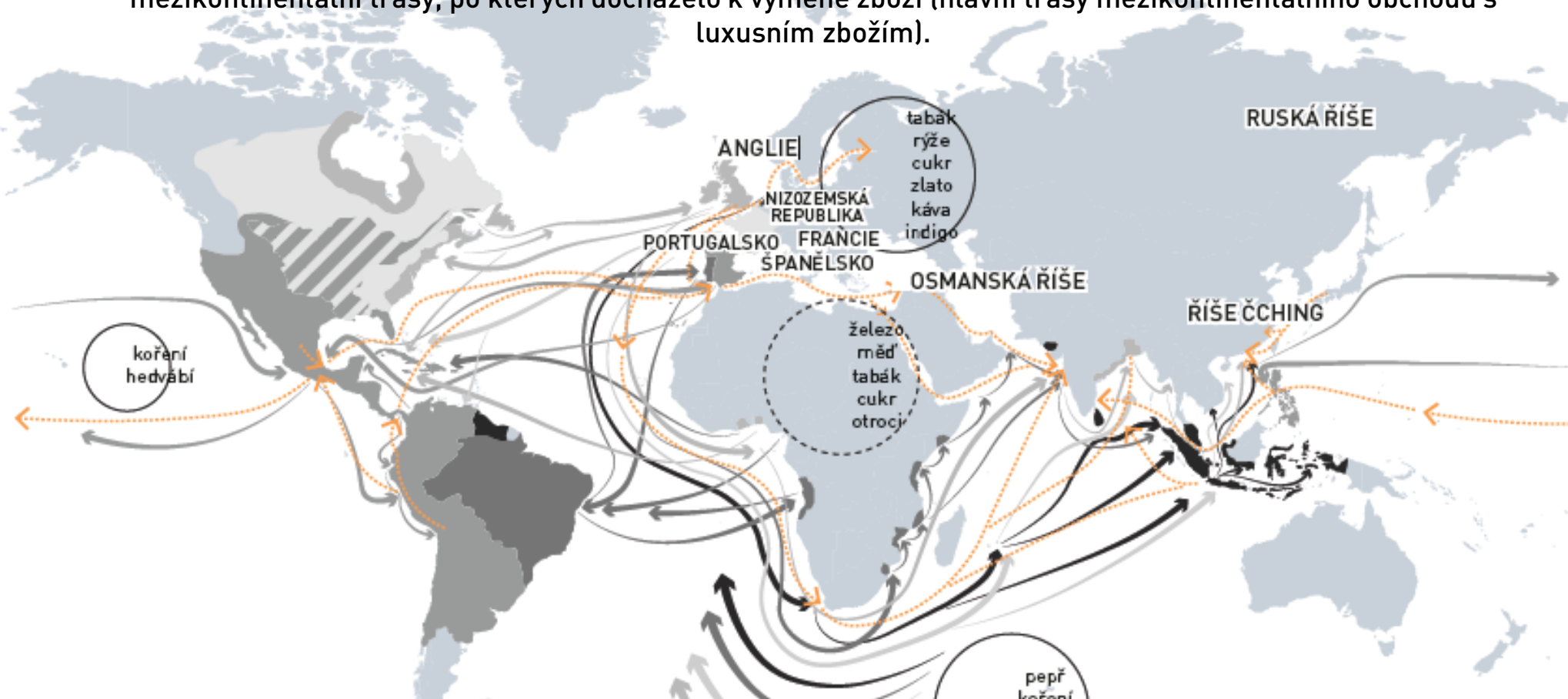


VZNIK KAPITALISMU

Mapy znázorňující tok zboží a otroků ve staletích po kolonizaci Ameriky ukazují zásadní zlom v globální historii: přechod od globálního systému ekonomických a obchodních výměn (viz mapy Obchodní systém) k systému založenému na strukturálně nerovných výměnách, němž převládaly některé evropské národy. Pochopení takového přechodu pomáhá rozvíjet schopnost porozumět a identifikovat nespojitosti v historii a obecně v lidském chování.



Tato mapa ukazuje svět přibližně na přelomu 17. a 18. století. Je na ní znázorněno území dobyté Evropany a mezikontinentální trasy, po kterých docházelo k výměně zboží (hlavní trasy mezikontinentálního obchodu s luxusním zbožím).

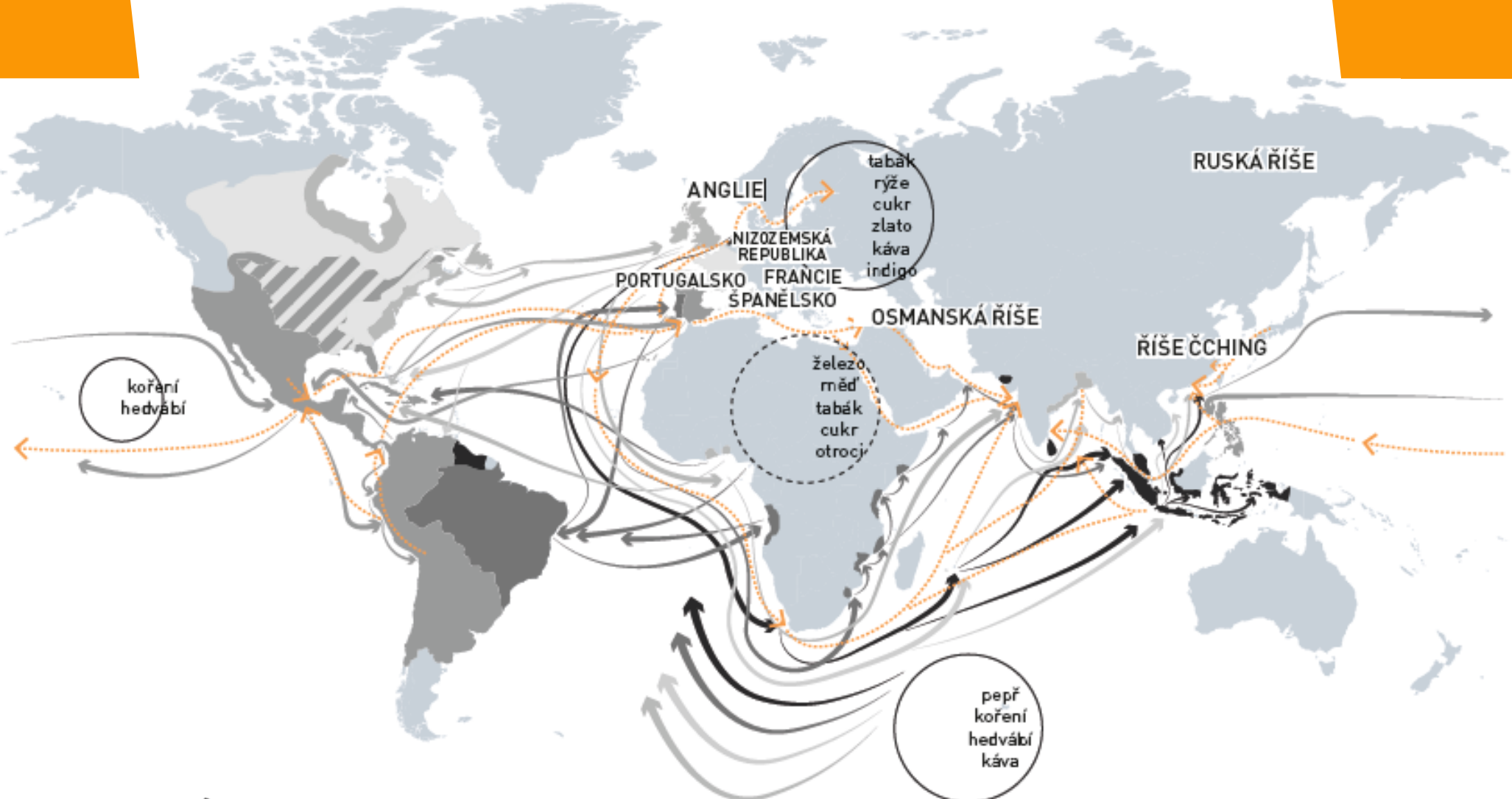


- Anglické území
- Francouzské území
- Španělské území
- Portugalské území
- Nizozemské území
- Oblasti, o které soupeřila Anglie s Francií.
- Anglické obchodní trasy
- Francouzské obchodní trasy
- Španělské obchodní trasy
- Portugalské obchodní trasy
- Nizozemské obchodní trasy
- Vývoz
- Trasa obchodu se stříbrem
- Dovoz

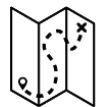
PODÍVEJTE SE NA MAPU A ODPOVĚZTE NA NÁSLEDUJÍCÍ OTÁZKY:



KTERÉ ZBOŽÍ NACHÁZEJÍCÍ SE NA MAPĚ SE POVAŽUJE I DNES ZA LUXUSNÍ A KTERÉ NIKOLI?



MEZI ZBOŽÍM, KTERÉ DOUHODOBĚ NENÍ OZNAČOVÁNO JAKO LUXUSNÍ, JE CUKR A KÁVA. PROČ JE JEJICH CENA TAK NÍZKÁ?



PODÍVEJTE SE NA MAPU ZNÁZORŇUJÍCÍ TŘI HLAVNÍ TRASY OBCHODU S OTROKY.



SYSTEM OBCHODU S OTROKY



-  Španělská oblast
-  Portugalská oblast
-  Britská oblast
-  Francouzská oblast
-  Transatlantický obchod s otroky
-  Obchod s otroky v Indickém oceánu
-  Transsaharský obchod s otroky
-  Evropský/americký přístav pro otrokářské lodě
-  Africký přístav pro obchod s otroky
-  Třídící a distribuční centrum
-  Zóna zátahů

PODÍVEJTE SE NA OBĚ MAPY DOHROMADY ODPOVĚZTE NA NÁSLEDUJÍCÍ OTÁZKY:

- KTERÉ STÁTY ORGANIZOVALLY HLAVNÍ MEZINÁRODNÍ TOKY LUXUSNÍHO ZBOŽÍ MEZI 17. A 18. STOLETÍM?
- ZE KTERÝCH SVĚTADÍLŮ SE NEJČASTĚJI DOVÁŽELO LUXUSNÍ ZBOŽÍ?
- ZE KTERÝCH SVĚTADÍLŮ POCHÁZELO NEJVÍCE OTROKŮ?
- KTERÉ OBLASTI SVĚTA ZÍSKALY V DŮSLEDKU VÝMĚNNÉHO OBCHODU EKONOMICKÉ VÝHODY? KTERÝM OBLASTEM NAOPAK NEJVÍCE UŠKODIL?

VAŠE ODPOVĚDI ODŮVODNĚTE.

